

〔社 会〕

○ 実 施 時 間 【10:40~11:20】(40分)

○ 次の注意をよく読んでおくこと。

- (1) 「始め」の合図があるまで問題用紙を開かないこと。
- (2) 問題は 1 ~ 4 , 13 ページまであります。
- (3) 答えはすべて指定された用紙の解答らんにはっきりと、ていねいに書きなさい。
- (4) 答えを直すときは、きれいに消してから書きなさい。
- (5) 内容に関する質問は受け付けません。
- (6) 気分が悪くなったり、トイレに行きたくなったら、手をあげて^{かんとく}監督の先生に合図しなさい。
- (7) 「終わり」の合図があったら、直ちに筆記用具を置き、解答用紙が回収されるまで待っていないさい。
- (8) 解答上の注意
字数指定のあるものは、句読点〔。、〕も一字と数えること。

受験 番号		氏 名	
----------	--	--------	--

1 右ページの地形図（国土地理院 25000分の1地形図「沼田」平成25年2月1日発行）を見て、あとの問いに答えなさい。

問1 地形図を見ると、この地域に発達する地形は、市役所のある平坦面と沼須町の^{へいたんめん}ある平坦面とその間の急斜面に見られるように、平坦面と急な斜面の組み合わせに特徴があります。このような地形を何といいますか、正しい用語を下から1つ選び、記号で答えなさい。

ア. カルデラ イ. 扇状地 ウ. 三角州 エ. 海岸平野 オ. 河岸段丘

問2 地形図の西を流れる川は、わが国で第2位の長さを誇り、流域面積はわが国最大の川です。川の名前を漢字で答えなさい。

問3 上越線の「ぬまた」駅と「旧生方家住宅」との標高差は何mくらいありますか、下から最も近い数値を1つ選び、記号で答えなさい。

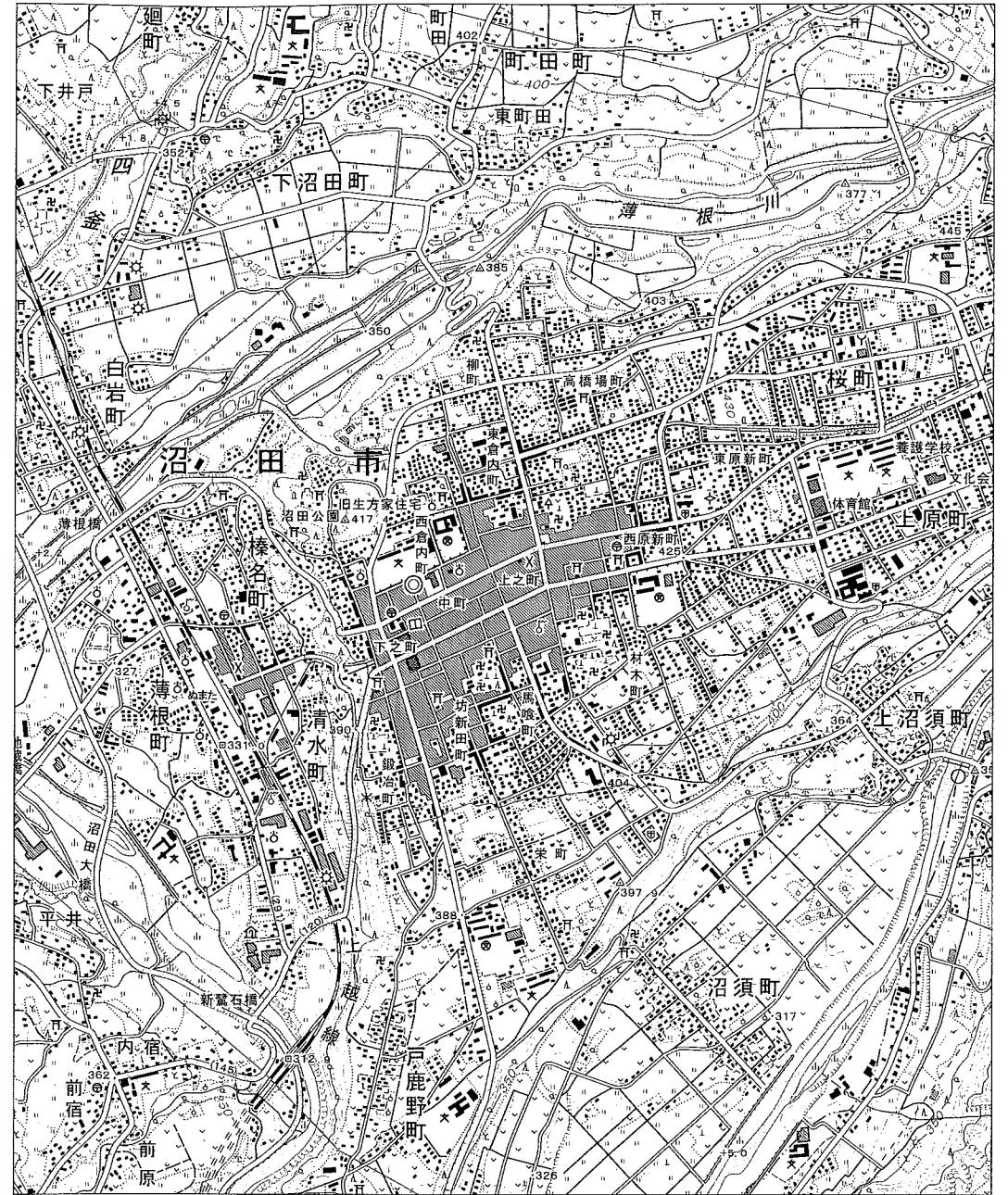
ア. 65 イ. 85 ウ. 105 エ. 125 オ. 145

問4 この地形図から読み取れることとして正しくない文を下から1つ選び、記号で答えなさい。

- ア. 市役所や「沼田公園」のある平坦面は家や畑として利用されており、急斜面は主に、針葉樹・広葉樹の樹林となっている。
- イ. 「沼田公園」に城跡があり、鍛冶町などの地名からもわかるように沼田の街は城下町として発達した。
- ウ. この地形図の範囲の中に、裁判所、図書館、消防署、税務署、警察署のすべてがある。
- エ. わずかではあるが「薄根川」沿いなどに桑畑が見られる。

問5 沼田市のある群馬県は、農牧業が盛んな県です。下の農産物のうち、2014年の群馬県の生産が全国生産の上位5位までに入っていない農産物を1つ選び、記号で答えなさい。

ア. キャベツ イ. レタス ウ. きゅうり エ. 米 オ. 小麦



2 次の文を読み、あとの問いに答えなさい。

ずっと増えてきた日本の人口も、ここ数年は減少するようになり、今後の100年で最高時の3分の1にまで減るともいわれています。① 今までは人口の増加、なかでも爆発的な増加が人口問題の中心となっていました。最近では人口の減少が新たな問題となってきたのです。

歴史をながめてみると、日本の人口は、増加の時期と減少の時期とを何度もくり返してきました。縄文時代は前半に増え、後半に減りました。弥生時代以降は増加しましたが、鎌倉時代のころになると減少します。室町時代にふたたび増えはじめますが、江戸時代の中ごろに減りはじめます。幕末に増加しはじめると、それ以来、日本の人口は② ここ数年の人口にまでに増えつづけました。ところが、2008年を境に減少に転じたのです。つまり、今回の人口の減少は、日本の歴史上、4回目ということになります。

人口の減少には、どのような理由があるのでしょうか。例えば、寒冷化するなどの気候の変化や、疫病の流行などといった、環境の変化をあげることができるでしょう。しかし、それだけではありません。歴史の大きな流れを見れば、人口の増加や減少には、社会のしくみのもとで、どれだけの人間の数が持続的に維持できるか、という「人口の収容力」の問題が大きく関わっているからです。この人口の収容力は、歴史上、社会のしくみの成熟や転換によって大きな変化をとげてきました。それでは、人口の収容力や社会のしくみという点に注意しながら、これまでの日本の人口の歩みを見ていくことにしましょう。

③ 縄文時代は生活が ・採集・漁労で成り立っていたため、生態系の生産力、つまり、人間をとりまく生き物たちの世界の生産力によって、人口の収容力が決められてしまいます。この時代の中期以降に気候が寒冷化すると、その影響をまともに受けて、人口は減ってしまいました。

弥生時代に大陸から伝わった がはじまると、それ以降の人口の収容力は、耕地の面積や水、燃料などの周辺環境の資源の量で決まるようになります。その後、人口は④ 奈良時代・⑤ 平安時代にかけて増えて、700万人ぐらいとなりましたが、⑥ 鎌倉時代に人口の収容力の限界に達して減りはじめました。

⑦ 室町時代以降、農業社会にも市場経済が広く行きわたり、市場で売るための農業が求められて、土地の生産性が上がったことで、人口も増えはじめました。とはいえ、土地にたよった農業社会であることに変わりなかったため、⑧ 江戸時代半ばの元禄

期ごろ、人口の収容力は3000万人ほどで限界に達して減りはじめました。

⑨ 明治時代をむかえ、工業化によって人口の増え方は格段に大きくなりました。歴史のなかの人口の増加や減少を、社会のしくみという見方から考えていく、ということからいえば、今回の4度目の人口減少は、⑩ 明治時代以降の工業化にたよった社会のしくみが行きづまったからだとも言えるかもしれません。

このように見てくると、これまで4回の人口減少期は、ただ単に物事がうまく行かなかった時代だったというわけではなく、次の社会のしくみをあらかじめ準備するという、成熟社会の時代でもありました。人口の収容力が限界に達するたびに、新しい資源、新しい技術、新しいしくみへの転換がなされてきたということを見すごしてはならないのです。人口の減少を経験した⑪ 現代が、今見てきたように成熟社会の時代というのであれば、われわれは次の社会のしくみに向けて、どのようなことを考えていく必要があるでしょうか。

日本では、1975年に1人の女性が生きているうちに産む子どもの数の平均が2人を下回るようになり、少子化の状態となりました。一方で、⑫ 1973年には石油危機がおき、石油などの限りある資源への意識が強まってもいました。この2つの大きなできごとは、同時期にあいついでおき、人々は「このままではいけない」と考えはじめたことで共通しています。人口の減少という、現代の日本がかかえる問題を解決していくためのカギは、あるいはこのようなところにあるのかもしれませんが。どのようなことをこれからの豊かさのめじるしにしていけばよいのか、そして、どのような社会をつくっていけばよいのか、これまでの価値観や発想にとらわれずに、考えていく必要があります。

問1 下線部①に関連して、人口が爆発的に増えると、どのような問題がおきると考えられますか、文章で述べなさい。

問2 空らん に入る適当なことばを1つ答えなさい。

問3 空らん に入る適当なことばを1つ、漢字2字で答えなさい。

問4 下線部③に関連して、1877年に東京の大森貝塚を発見した、アメリカの生物学者を答えなさい。

問5 下線部②に関連して、2017年のおよその日本の人口として、適当なものを下から1つ選び、記号で答えなさい。

- ア. 約7500万人 イ. 約1億人 ウ. 約1億2500万人
エ. 約1億5000万人 オ. 約1億7500万人

問6 下線部④に関する次の文A・Bについて、それぞれの文の内容が正しいか誤っているかを判断し、その正誤の組み合わせとして正しいものを、下のア～エから1つ選び、記号で答えなさい。

- A 平城京は710年に、唐の都長安を手本としてつくられた。
B 東大寺には大仏が建立されたが、僧の道鏡もこれに協力した。

- ア. A 正 B 正 イ. A 正 B 誤
ウ. A 誤 B 正 エ. A 誤 B 誤

問7 下線部⑤に関連して、この時代に活躍した空海は、書道の名人として、三筆の1人に数えられています。空海のほかの三筆として適当な人物を、下から1つ選び、記号で答えなさい。

- ア. 千利休 イ. 中臣鎌足 ウ. 雪舟
エ. 小野妹子 オ. 嵯峨天皇

問8 下線部⑥について、この時代のできごとを説明した文として、正しいものを下から1つ選び、記号で答えなさい。

- ア. 月3回の定期市が開かれ、宋銭が取り引きに使われた。
イ. 高麗にかわって朝鮮が建てられ、独特のハングル文字がつけられた。
ウ. 東北地方で2度にわたって反乱や一族の争いがあった。
エ. 多くの日本人が海外に出かけ、東南アジアに日本町ができた。

問9 下線部⑦について、この時代におきた次のX～Zのできごとを、古い順に並べかえたとき、正しいものを下のア～カから1つ選び、記号で答えなさい。

- X 応仁の乱 Y 正長の土一揆 Z 金閣の造営

- ア. X⇒Y⇒Z イ. X⇒Z⇒Y ウ. Y⇒X⇒Z
エ. Y⇒Z⇒X オ. Z⇒X⇒Y カ. Z⇒Y⇒X

問10 下線部⑧について、この時期は、5代将軍徳川綱吉が政治をしていました。この時期のできごとを述べた文として正しいものを、下から1つ選び、記号で答えなさい。

- ア. 出かせぎの農民を帰村させる人返しの法を出した。
イ. 幕府の学問所では朱子学以外の学問を禁止した。
ウ. 江戸の湯島に孔子をまつる聖堂を建て、儒学を重んじた。
エ. キリスト教に関係ない洋書の輸入を許した。

問11 下線部⑨に関連して、民選議院設立の建白書が政府に提出された時期として正しいものを、下の年表中の空らん ～ から1つ選び、記号で答えなさい。

- | | | |
|--------------------------------|-------|-----------|
| <input type="text" value="ア"/> | 1868年 | 五か条の御誓文 |
| <input type="text" value="イ"/> | 1881年 | 国会開設の詔 |
| <input type="text" value="ウ"/> | 1889年 | 大日本帝国憲法発布 |
| <input type="text" value="エ"/> | | |

問12 下線部⑩に関連して、日本では、第一次世界大戦中、にわかにお金持ちになるという成金が続出しました。その理由として、適当なものを下から1つ選び、記号で答えなさい。

- ア. 大戦中に米などの物価が下がり、庶民の生活が楽になっていたから。
- イ. 重工業に続き、綿糸などのせんい産業でも産業革命がおきたから。
- ウ. ニューヨークで株価が大暴落して日本以外の国が不景気となったから。
- エ. アジア市場を中心に綿織物などの工業製品の輸出がのびたから。

問13 下線部⑪に関連して、戦後の外交について述べた次の文のうち、内容の正しいものを下から1つ選び、記号で答えなさい。

- ア. サンフランシスコ平和条約によって、日本は国連の加盟が許された。
- イ. 日米安全保障条約により、日本はアメリカ軍に基地を提供した。
- ウ. 日韓基本条約を結び、日本は韓国および北朝鮮と国交を結んだ。
- エ. 日中共同声明が出され、日本は遼東半島を中国に返した。

問14 下線部⑫の前年1972年には、アメリカ軍の軍政下におかれていた沖縄が日本に復帰しました。当時の首相は「沖縄が復帰しないかぎり、日本の戦後は終わらない」と表明していましたが、その首相とはだれですか、適当な人物を下から1つ選び、記号で答えなさい。

- ア. 吉田茂 イ. 犬養毅 ウ. 原敬
- エ. 鳩山一郎 オ. 佐藤栄作

問15 本文で述べられた内容として、正しいものを下から1つ選び、記号で答えなさい。

- ア. 弥生時代の人口の収容力は、生態系の生産力によって決められていたため、気候が寒冷化するとその影響を受け、人口が減少した。
- イ. 平安時代から室町時代にかけて人口が増えたのは、人口の収容力が、周辺環境の資源の量で決まるようになったからだった。
- ウ. 農業社会に市場経済が広く行きわたるようになると、土地の生産性が上がったため、明治時代まで人口は増え続けた。
- エ. 石油危機と少子化の状態を受けとめて、今までの価値観や発想にとらわれずに、新たな社会のしくみを考えていく必要がある。

このページに設問はありません

3 わが国の灯台に関する次の文を読み、あとの問いに答えなさい。

- (1) 石廊崎灯台は国立公園に指定されている (①) 半島にあります。明治4年の建造で、海の難所なんしよと言われた石廊崎沖の航行の安全を守っています。(①) 半島の南部には日米和親条約によって開港場となった下田があります。
- (2) 室戸岬灯台は高知県室戸市にあり、一帯は室戸阿南海岸国定公園に指定されています。この灯台からの光達距離こうたつ(灯台の光が届く距離)はa 26.5海里(約49キロメートル)で、日本一とされています。
- (3) 納沙布岬灯台は北海道にある灯台としては最古のものです。晴天の日はこの岬から、歯舞群島の1つである水晶島が望めます。納沙布岬灯台がある根室市は、交通標識に英語と (②) 語も使われ、隣国りんこくである (②) との交流が深いことが実感されます。
- (4) 大王埼灯台は伊勢志摩国立公園内のb 志摩半島の中ほどに位置する灯台です。熊野灘と遠州灘とを分ける大王埼付近は潮の流れが速く、昔から難破・座礁なんぱ ざしょうする船舶せんぱくが多かったことから灯台が設置されました。
- (5) 龍飛崎灯台は北海道を望める半島の先端にあります。龍飛崎には先端部分が階段になっている国道や、青函トンネルの入り口があり、国際海峡(外国船が自由に航行できる海峡)に指定されている (③) 海峡が広がっています。
- (6) 坊の岬灯台は (④) 県の薩摩半島の先端に位置し、目の前には東シナ海が広がります。岬のふもとにはc 坊津という遣唐使船が寄港した港があります。また、薩摩半島には山の姿が富士山に似ていることで有名な開聞岳もあります。

問1 灯台を管理している機関を下から1つ選び、記号で答えなさい。

- ア. 農林水産省 イ. 防衛省 ウ. 内閣府
エ. 国土交通省 オ. 経済産業省

問2 空らん (①) ~ (④) に入る適当な語句を漢字で答えなさい。ただし、(②) はカタカナで答えなさい。

問3 下線部aに関連して、国連海洋法条約によって領海は何海里と定められていますか、数字で答えなさい。

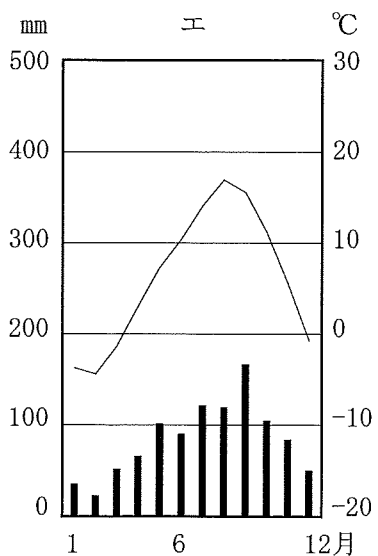
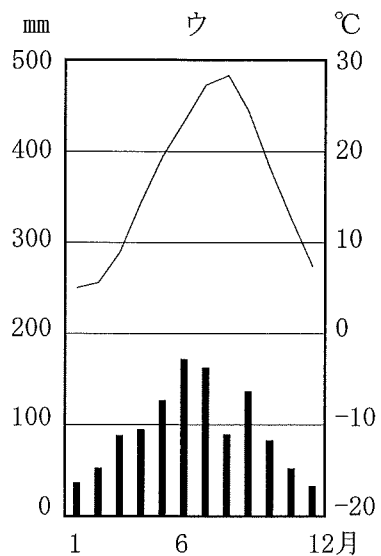
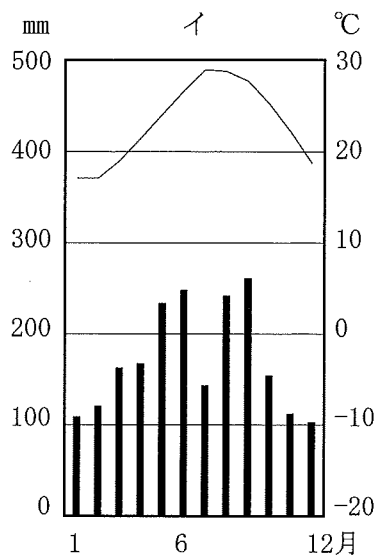
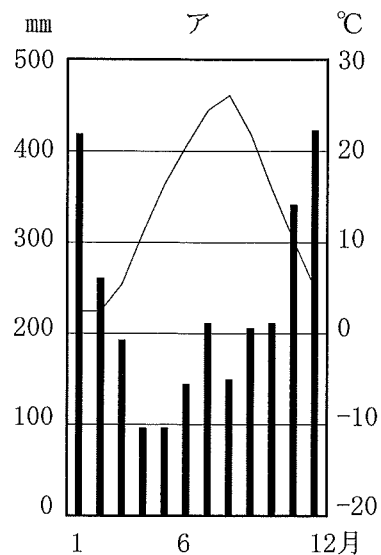
問4 下線部bにある英虞湾は、あるものの養殖業ようしよくが盛んです。その養殖されているものの名称を下から1つ選び、記号で答えなさい。

- ア. ワカメ イ. 真珠しんじゆ ウ. ホタテガイ
エ. 車エビ オ. ウナギ

問5 下線部cに隣接りんせつして、枕崎市がありますが、この市はある魚介類の加工製造で有名です。その魚介類を下から1つ選び、記号で答えなさい。

- ア. ニシン イ. サンマ ウ. カツオ
エ. ブリ オ. イカ

問6 下の雨温図は、根室市・岡山市・上越市・那覇市のものです。この中から根室市にあたる雨温図を下から1つ選び、記号で答えなさい。



4 次の文を読み、あとの問いに答えなさい。

2017年は衆議院議員総選挙など、さまざまなa 選挙が行われました。

わが国の国会は衆議院と参議院のb 二院制を採用しています。衆議院議員の任期は(1)年ですが、参議院と異なり、解散があります。今回の衆議院の解散は天皇のc 国事行為の1つとして行われました。

衆議院議員の選挙制度は(2)です。また、衆議院の議員定数は465人です。これまでは475人でしたが、d 法律の改正によって選挙区の区割りの変更や、定数の減員が行われました。

問1 空らん(1)にふさわしい数字を答えなさい。

問2 下線部aについて、国会議員、地方議会議員、地方公共団体の首長の選挙について定めた法律の名称を、解答らんに合わせて漢字で答えなさい。

問3 空らん(2)に入る語句を解答らんに合わせて漢字で答えなさい。

問4 下線部cについて、国事行為にあたる内容として正しいものを1つ選び、記号で答えなさい。

- ア. 閣議を召集する。
- イ. わが国を代表して、外国を訪問する。
- ウ. 内閣総理大臣及びその他の国务大臣を任命する。
- エ. 外国の大使・公使を接受する。

問5 下線部dについて、その理由として適当な文を下から1つ選び、記号で答えなさい。

- ア. 立候補する人が年々減少しているため。
- イ. いわゆる「1票の格差」を小さくするため。
- ウ. 選挙にかかわる費用はすべて税金でまかなわれているため。
- エ. 選挙に無関心な人が増えて、投票率が低下しているため。

問6 下線部bについて、二院制を採用している理由を答えなさい。