

## 〔社 会〕

○ 実施時間 【10:40~11:20】(40分)

○ 次の注意をよく読んでおくこと。

- (1) 「始め」の合図があるまで問題用紙を開かないこと。
- (2) 問題は  ~ , 12 ページまであります。
- (3) 答えはすべて指定された用紙の解答らんにはっきりと、ていねいに書きなさい。
- (4) 答えを直すときは、きれいに消してから書きなさい。
- (5) 内容に関する質問は受け付けません。
- (6) 気分が悪くなったり、トイレに行きたくなったら、手をあげて監督<sup>かんとく</sup>の先生に合図しなさい。
- (7) 「終わり」の合図があったら、直ちに筆記用具を置き、解答用紙が回収されるまで待っていなさい。
- (8) 解答上の注意  
字数指定のあるものは、句読点 [。 ,] も一字と数えること。

受験番号		氏名	
------	--	----	--

1 太郎君たちは、社会科見学で、地図の学習をするために、茨城県つくば市にある「国土地理院 地図と測量の科学館」を訪れました。右ページの地形図は、「国土地理院 地図と測量の科学館」の載っている地形図（国土地理院 平成19年12月1日発行25000分の1地形図「上郷」）の一部を示したものです。この地形図を見て、あとの問いに答えなさい。

問1 つくばエクスプレスの「けんきゅうがくえん」駅からみて、「国土地理院 地図と測量の科学館」はどの方角にありますか、8方位を使って漢字で答えなさい。

問2 「国土地理院 地図と測量の科学館」には、古地図コーナーがあり、江戸時代に作成された地図が展示されていました。この中に、「大日本沿海輿地全図」という実際の測量に基づいて描かれた立派な地図がありました。この地図の作成者は誰ですか、正しい人名を下から1人選び、記号で答えなさい。

- ア. 新井白石      イ. 平賀源内      ウ. 大塩平八郎  
エ. 伊能忠敬      オ. 関孝和

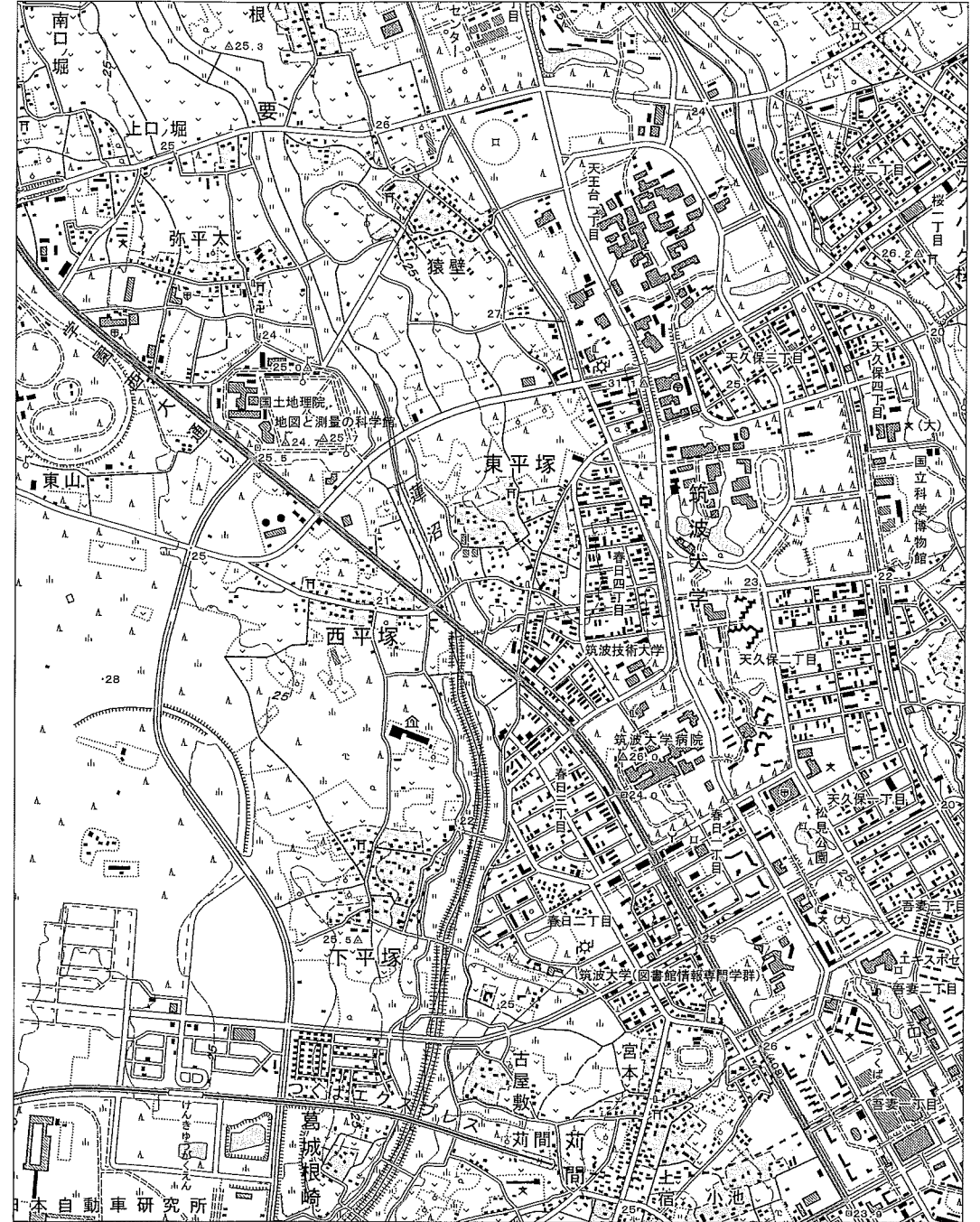
問3 「国土地理院 地図と測量の科学館」と「国立科学博物館」の間は、地形図上で9.4cmあります。実際の距離は何mあることになりますか、答えなさい。

問4 「国土地理院 地図と測量の科学館」の近くに、□の地図記号があります。高さの基準であるこの地図記号を何といいますか、正しいものを下から1つ選び、記号で答えなさい。

- ア. 三角点      イ. 水準点      ウ. 基準点      エ. 四角点      オ. 標高点

問5 この地形図から読み取れることとして適当でない文を下から1つ選び、記号で答えなさい。

- ア. 「蓮沼川」などの川沿いの低地は、主に田として利用され、「地図と測量の科学館」がある少し高い所は、主に住宅や研究施設、畑として利用されている。  
イ. 駅前や大学の近くにコンビニエンスストア（コンビニ）が数多くある。  
ウ. この地形図の範囲は、筑波研究学園都市の一部なので、研究施設、博物館、大学などが数多くある。  
エ. この地形図の範囲の中に、図書館、老人ホーム、病院、寺院のすべてがある。



2 次の文を読み、あとの問いに答えなさい。

- (1) 青森県にある縄文時代の(①)遺跡<sup>いせき</sup>では、巨大な建造物<sup>あと</sup>の跡が発見され、また、a かなり遠くの地域と交易がおこなわれていたことを示す遺物も出土しています。
- (2) 大化の改新から15年後、唐と新羅の連合軍が百済を滅ぼしました。日本は百済の復興をめざしましたが、(②)の戦いで大敗しました。中大兄皇子は都を大津に移し、b 唐・新羅の来襲<sup>らいしゅう</sup>に備えて守りを固めました。
- (3) 平安時代半ば、社会が不安定になると、空也のように(③)を唱えて各地を巡り歩き、同時に各地で井戸<sup>ほ</sup>を掘るなどして人々の生活を支える僧侶<sup>そうりよ</sup>が現れ、次第に(③)が盛んとなりました。
- (4) 鎌倉時代後半、阿仏尼は子どもたちの間のc 領地争いを解決するため、京都から鎌倉まで下りましたが、その道中のことを日記に記しました。それが『十六夜日記』で、当時60歳近い女性が旅をするのは珍<sup>めずら</sup>しいことでした。
- (5) 室町時代にはd 宋銭・明銭などが使われ、朝鮮や琉球からの輸入品も増え、取引が盛んとなり、毎月決められた日に開かれる定期市の回数も増えました。その結果、同業者の組合である(④)の活動も一層盛んとなりました。
- (6) 江戸時代になるとe 幕府は五街道を整備し、地方の街道も整備が進みました。こうしたことを背景に17世紀後半、(⑤)は江戸から東北をまわって大垣までの旅の記録と、その間に詠んだ俳句を入れた『奥の細道』を著しました。
- (7) 18世紀後半になると町人や農民の旅行が増えました。特に三重県にある(⑥)神宮への参拝目的の旅行が増えました。そうした中f 弥次郎兵衛・喜多八の旅の失敗談を面白く記した『東海道中膝栗毛』が人気を集めました。

(8) 明治維新後、日本で初めて新橋と(⑦)の間に鉄道が開通し、移動が便利になりました。その後、19世紀末の【あ】戦争の後に多くの路線が開通し、20世紀初めの【い】戦争の後には主要な鉄道が国有化されました。

(9) 高度経済成長が続く中、1964年に東海道新幹線が開通し、人の移動が一層便利になりました。しかし一方で都会へ移る人々も増え、その結果農村や山間部では【う】が大きな問題となってきました。

問1 空らん(①)に入る適当な遺跡名を下から1つ選び、記号で答えなさい。

- ア. 登呂                      イ. 板付                      ウ. 岩宿  
エ. 三内丸山                  オ. 吉野ヶ里

問2 下線部aに関連して、縄文時代の交易で扱われていなかったものを下から1つ選び、記号で答えなさい。

- ア. ひすい                      イ. 黒曜石                      ウ. 鉄器  
エ. 土器                          オ. 塩

問3 下線部bに関連して、日本を守るため、各地から北九州に送られた兵士を何といいますか、漢字2字で答えなさい。

問4 空らん(③)には、「南無阿弥陀仏」と唱え、極楽浄土への往生を願うことを表す言葉が入りますが、その言葉を漢字2字で答えなさい。

問5 下線部cに関連して、鎌倉時代に訴訟<sup>そしゅう</sup>や裁判<sup>あつか</sup>を扱った幕府の機関はどこですか、下から1つ選び、記号で答えなさい。

- ア. 侍所                      イ. 問注所                      ウ. 地頭                      エ. 政所                      オ. 守護

問6 下線部dについて、当時大量に入ってきた明の貨幣<sup>かへい</sup>を何といいますか、解答らんに合わせて答えなさい。

問7 下線部 e に関連して、徳川家光の時に参勤交代の制度が定められ、大名は1年おきに江戸と領地を往復しましたが、その結果大名はどのようなことに悩まされたのでしょうか、40字以内で述べなさい。

問8 空らん(⑤)に入る適当な人物の名前を下から1つ選び、記号で答えなさい。

- ア. 松尾芭蕉      イ. 井原西鶴      ウ. 与謝蕪村  
エ. 尾形光琳      オ. 菱川師宣

問9 下線部 f について、この本を著した適当な人物の名前を下から1つ選び、記号で答えなさい。

- ア. 葛飾北斎      イ. 近松門左衛門      ウ. 小林一茶  
エ. 曲亭馬琴      オ. 十返舎一九

問10 空らん【あ】【い】に入る語句の組み合わせとして正しいものを下のア～カの中から1つ選び、記号で答えなさい。

	【あ】	【い】
ア	日中	日清
イ	戊辰	日清
ウ	日露	日清
エ	日中	日露
オ	戊辰	日露
カ	日清	日露

問11 空らん【う】に入る適当な語句を下から1つ選び、記号で答えなさい。

- ア. 観光地化      イ. 都市化      ウ. 宅地化  
エ. 農地化      オ. 過疎化

問12 空らん(②)(④)(⑥)(⑦)に入る適当な語句を漢字で答えなさい。

このページに設問はありません

3 次の各文は、日本の5つの県にある「世界遺産」に関して述べたものです。この文を読み、あとの問いに答えなさい。

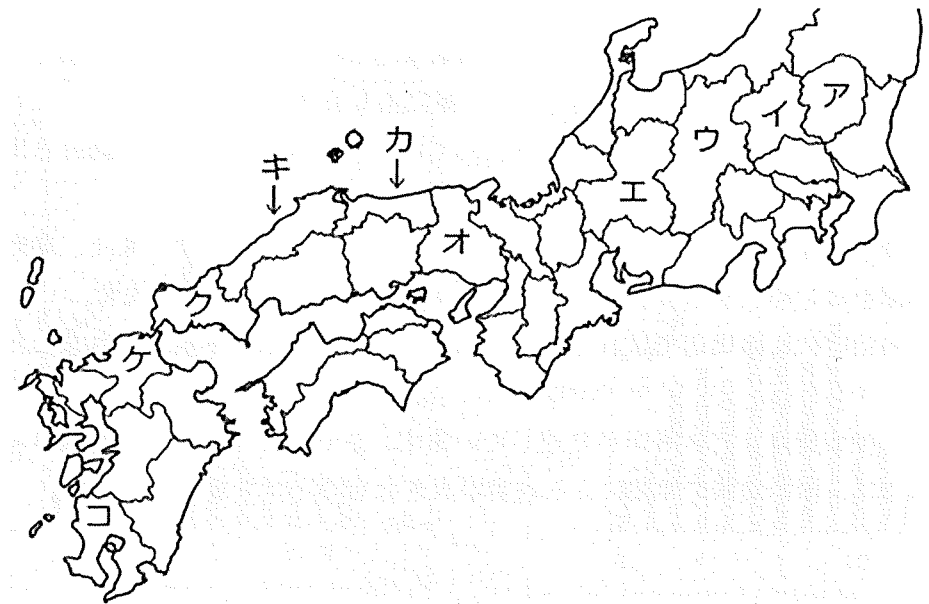
- (1) 石見銀山は2007年に世界遺産に登録されました。戦国時代後期から江戸時代前期にかけて最盛期を迎えた日本最大の銀山で、最盛期には日本の銀輸出の大部分を占めるほどの産出量をほこりました。
- (2) 富岡製糸場は2014年に世界遺産となりました。富国強兵を目指した明治政府は、外貨を得るために生糸の生産に力を入れました。周辺地域で養蚕が盛んであることから、この地に工場が建設されました。
- (3) 平泉は2011年に世界遺産に登録されました。ここは3代100年にわたって栄えた奥州藤原氏の拠点として発展をしました。中尊寺や毛越寺などをあわせた5つの資産が世界遺産に登録されています。
- (4) 日光東照宮は1999年に世界遺産に登録されました。ずっと見ても飽きないことから日暮門ともいわれる陽明門や、「見ざる・言わざる・聞かざる」の三猿などが有名です。
- (5) 沖ノ島は2017年に世界遺産に登録されました。玄界灘の中に位置し、大陸との交流を示す遺跡が発見されています。現在も女人禁制の伝統が守られ、男性でも一般人の上陸は厳しく制限されています。

問1 文(1)・(2)の世界遺産がある県名を漢字で答えなさい。

問2 文(3)の世界遺産がある県の伝統工芸品として適当なものを下から1つ選び、記号で答えなさい。

- ア. 益子焼      イ. 清水焼      ウ. 加賀友禅  
エ. 熊野筆      オ. 南部鉄器

問3 文(4)・(5)の世界遺産がある県の位置を地図のア～コから選び、記号で答えなさい。



問4 文(3)の世界遺産がある県は北海道に次ぐ面積を有しています。面積の大きい都道府県の上位を表している次の表を見て、①と②に当てはまる県の組み合わせとして適当なものを下のア～カから1つ選び、記号で答えなさい。

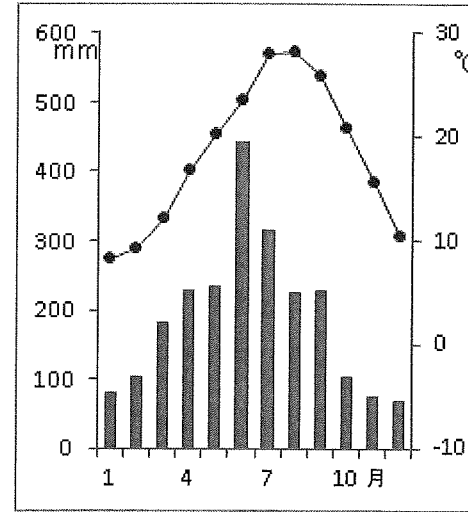
順位	都道府県
1	北海道
2	文(3)の世界遺産がある県
3	①
4	長野県
5	②

- ア. ①—岐阜県    ②—福島県      イ. ①—岐阜県    ②—新潟県  
ウ. ①—福島県    ②—新潟県      エ. ①—福島県    ②—岐阜県  
オ. ①—新潟県    ②—岐阜県      カ. ①—新潟県    ②—福島県

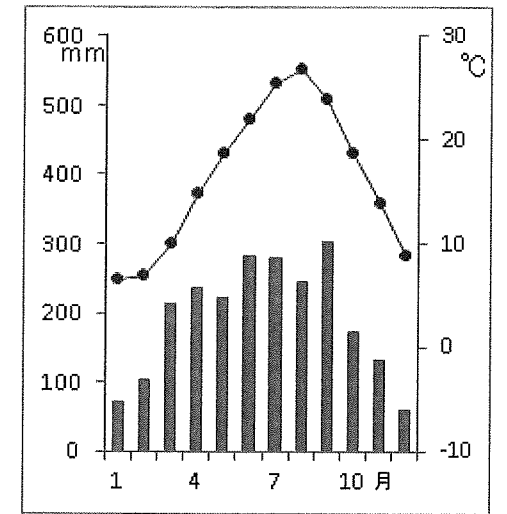
問5 下の文は、文(1)～(5)の世界遺産がある県の特徴をそれぞれ説明しています。文(1)・(5)の世界遺産がある県の説明として適当なものを下から1つ選び、それぞれ記号で答えなさい。

- ア. 華厳の滝は日本国内の滝の中でも有名なものの1つです。日本で初めてとなる公害事件が発生した足尾銅山もこの県にあります。
- イ. 宍道湖ではシジミ漁が盛んに行われています。多くの観光客が訪れる出雲大社もこの県にあります。
- ウ. 夏でも涼しい気候をいかした農業が盛んに行われています。また、県内には草津をはじめとする有名な温泉地があり、多くの観光客が訪れます。
- エ. 明治時代には周辺で採れる石炭を利用した八幡製鉄所が建設されました。また、農業も盛んで、イチゴの生産量は全国でも有数となっています。
- オ. 三陸海岸はリアス海岸が発達しています。2011年に発生した東日本大震災では、沿岸地域で津波による被害が大きなものとなりました。

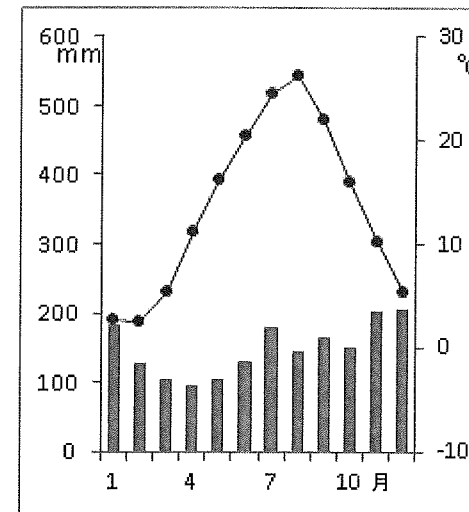
問6 下の雨温図は、静岡市、新潟市、鹿児島市、文(2)の世界遺産がある県の県庁所在地の雨温図です。文(2)の世界遺産がある県の県庁所在地の雨温図として適当なものを、下から1つ選び、記号で答えなさい。



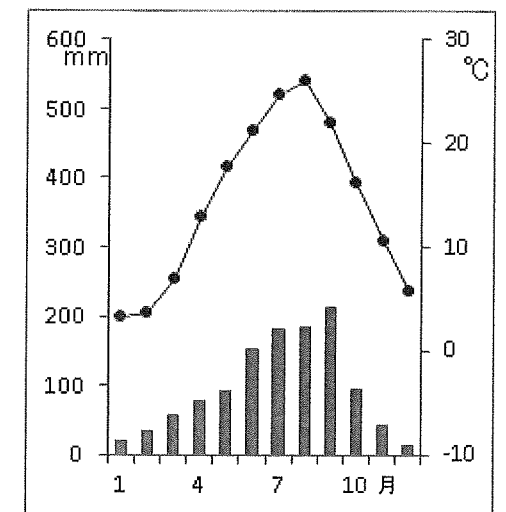
ア



イ



ウ



エ

4 次の文を読み、あとの問いに答えなさい。

地方議会議員と首長は、地域の住民による直接選挙で選ばれます。選挙においては、a 選挙権や被選挙権の年齢ねんれいが決められています。また、地方自治には地域住民が直接政治に参加して、意思を表明できる仕組みであるb 直接請求権というものがあります。この権利には、c 住民が首長を解職させることができる権利も含まれています。

問1 下線部 a に関連して、【1】と【2】のそれぞれの年齢として適当なものを、下のア～オから1つ選び、それぞれ記号で答えなさい。

【1】選挙権 【2】地方議会議員の被選挙権

ア. 満18歳以上      イ. 満20歳以上      ウ. 満25歳以上  
エ. 満30歳以上      オ. 満35歳以上

問2 下線部 b に関連して、【1】と【2】の請求を行うのに必要な署名数は、有権者数の何分の1以上ですか、適当なものを下のア～オから1つ選び、それぞれ記号で答えなさい。

【1】条例の制定 【2】議会の解散

ア. 2分の1      イ. 3分の1      ウ. 5分の1  
エ. 20分の1      オ. 50分の1

問3 下線部 c について、住民が首長の解職を求めることを何といいますか、カタカナ4字で答えなさい。

問4 地方自治は、住民が主体的に政治に参加することから、「地方自治は（ ）主義の学校」ともいわれます。（ ）に入る適当な語句を漢字2字で答えなさい。

このページに設問はありません